

# Préparation DS sur les fonctions, les limites et intégrales BUT GEII 1ALT



# Etude de fonctions



Soit  $f$ , la fonction définie par :  $f(x) = \frac{e^{x^2}}{e^{x^2} - 1}$ .

Son ensemble de définition est donc :

✓ 1.  $D_f = \mathbb{R}^*$

2.  $D_f = \mathbb{R} - \{1\}$

3.  $D_f = \mathbb{R} - \{-1; 1\}$

4.  $D_f = \mathbb{R}$

5. Aucune des réponses précédentes n'est juste

1

2

3

4

5



Notes

$$f(x) = \frac{e^{x^2}}{e^{x^2} - 1}$$

$f(x)$  existe ssi  $e^{x^2} - 1 \neq 0$

$$\text{On résout } e^{x^2} - 1 = 0 \Leftrightarrow e^{x^2} = 1$$

$$\Leftrightarrow x^2 = 0$$

$$f(x) \text{ existe } \Leftrightarrow x = 0$$

$$\mathcal{D}_f = \mathbb{R}^*$$



Soit  $f$ , la fonction définie sur  $\mathbb{R}^*$  par :  $f(x) = \frac{e^{x^2}}{e^{x^2} - 1}$ .

3'

$f$  est donc :

✓ 1. paire

2. impaire

3. ni l'un, ni l'autre

1

2

3



Notes

$$f(x) = \frac{e^{x^2}}{e^{x^2} - 1}$$

$$f(-x) = \frac{e^{(-x)^2}}{e^{(-x)^2} - 1} = \frac{e^{x^2}}{e^{x^2} - 1} = f(x)$$

$f$  est donc paire sur  $\mathbb{R}^* = ]-\infty; 0[ \cup ]0; +\infty[$   
On étudie donc  $f$  sur  $]0; +\infty[ = \mathbb{R}_+^*$



On étudie la fonction  $f$ , définie par :  $f(x) = \frac{e^{x^2}}{e^{x^2}-1}$  sur  $\mathbb{R}_+^*$

L'expression de sa dérivée est alors :

$$1. f'(x) = \frac{-e^{x^2}}{(e^{x^2}-1)^2}$$

1

$$2. f'(x) = \frac{e^{x^2}}{(e^{x^2}-1)^2}$$

2

$$3. f'(x) = \frac{2x \cdot e^{x^2}}{(e^{x^2}-1)^2}$$

3

$$\checkmark 4. f'(x) = \frac{-2x \cdot e^{x^2}}{(e^{x^2}-1)^2}$$

4

5. Aucune des réponses précédentes n'est juste

5

3'



Notes

$$f(x) = \frac{e^{x^2}}{e^{x^2} - 1} \quad \forall x > 0$$

$$\left(\frac{u}{v}\right)' = \frac{u'v - uv'}{v^2}$$

$$(e^{x^2})' = (x^2)' \cdot e^{x^2}$$

$$(e^{x^2})' = 2x \cdot e^{x^2}$$

$$f'(x) = \frac{2x \cdot e^{x^2} (e^{x^2} - 1) - e^{x^2} (2x e^{x^2})}{(e^{x^2} - 1)^2}$$

$$= \frac{2x \cdot e^{x^2} - 2x e^{x^2} - 2x e^{x^2}}{(e^{x^2} - 1)^2}$$

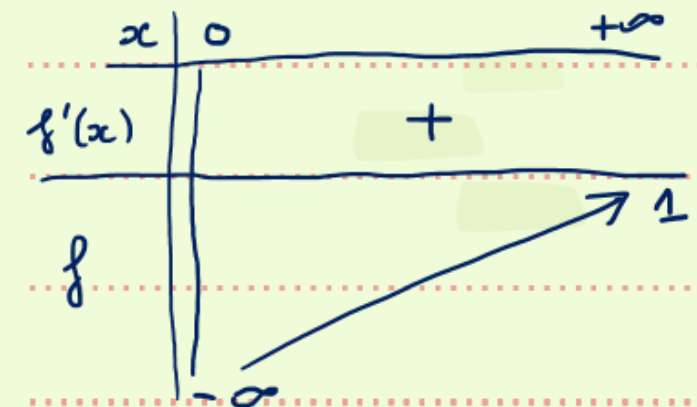
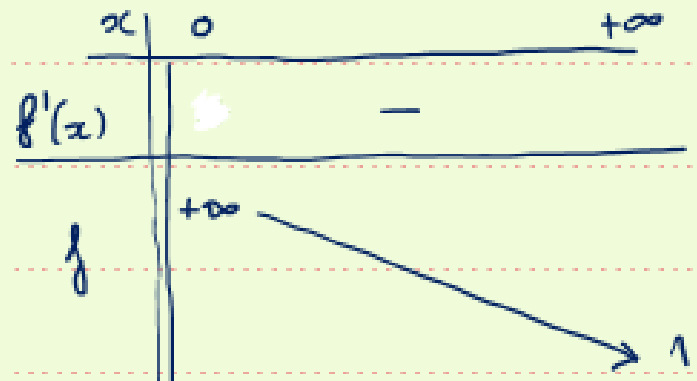
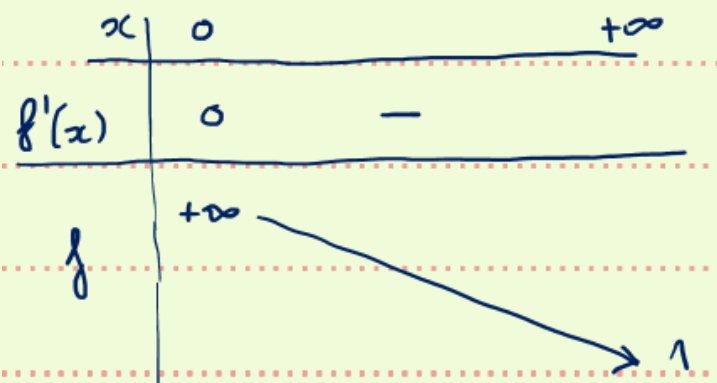
$$f'(x) = \frac{-2x e^{x^2}}{(e^{x^2} - 1)^2} \quad \forall x > 0.$$





On étudie la fonction  $f$ , définie par :  $f(x) = \frac{e^{x^2}}{e^{x^2}-1}$  sur  $\mathbb{R}_+^*$

dont la dérivée est :  $f'(x) = \frac{-2x \cdot e^{x^2}}{(e^{x^2}-1)^2}$ . Quel est alors le tableau de variation complet de  $f$  ?



1. Le premier tableau est correct
- ✓2. Le deuxième tableau est correct
3. Le troisième tableau est correct
4. Aucun des tableaux ci-dessus n'est correct.

1

2

3

4



Notes

$$f(x) = \frac{e^{x^2}}{e^{x^2} - 1}$$

$$f'(x) = \frac{-2x e^{x^2}}{(e^{x^2} - 1)^2}$$

$\forall x > 0$


$f'(x)$  est du signe de  $\underbrace{-2x}_{<0} \underbrace{e^{x^2}}_{>0} < 0 \quad \forall x > 0$ .

$x$	0	$+\infty$
$f'(x)$		-
$f$	$+\infty$	1

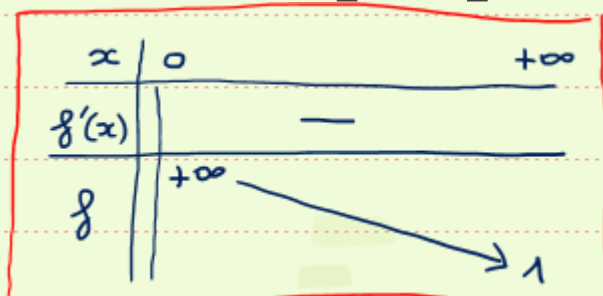
$\lim_{x \rightarrow 0^+} f(x) = \frac{1}{0^+} = +\infty$   
↓  
effet  $x > 0$  donc  $e^{x^2} > e^0 = 1$   
et  $e^{x^2} - 1 > 0$

$$L = \lim_{x \rightarrow +\infty} f(x) = \frac{e^{+\infty}}{e^{+\infty} - 1} = \frac{+\infty}{+\infty} \text{ F.I.}$$

$$f(x) \underset{+\infty}{\sim} \frac{e^{x^2}}{e^{x^2}} = 1 \text{ donc } L = 1$$



Pour tracer la courbe représentant  $f$  sur son ensemble de définition, on commence par placer les droites suivantes :




1. l'asymptote horizontale d'équation  $y = 0$ , et l'asymptote verticale d'équation  $x=1$ .
- ✓2. l'asymptote horizontale d'équation  $y = 1$ , et l'asymptote verticale d'équation  $x=0$ .
3. les asymptotes horizontales d'équation  $y = 1$ , et  $y= -1$  et l'asymptote verticale d'équation  $x=0$ .
4. La tangente horizontale en  $0$ , l'asymptote horizontale d'équation  $y = 1$ , et l'asymptote verticale d'équation  $x=0$ .

1

2

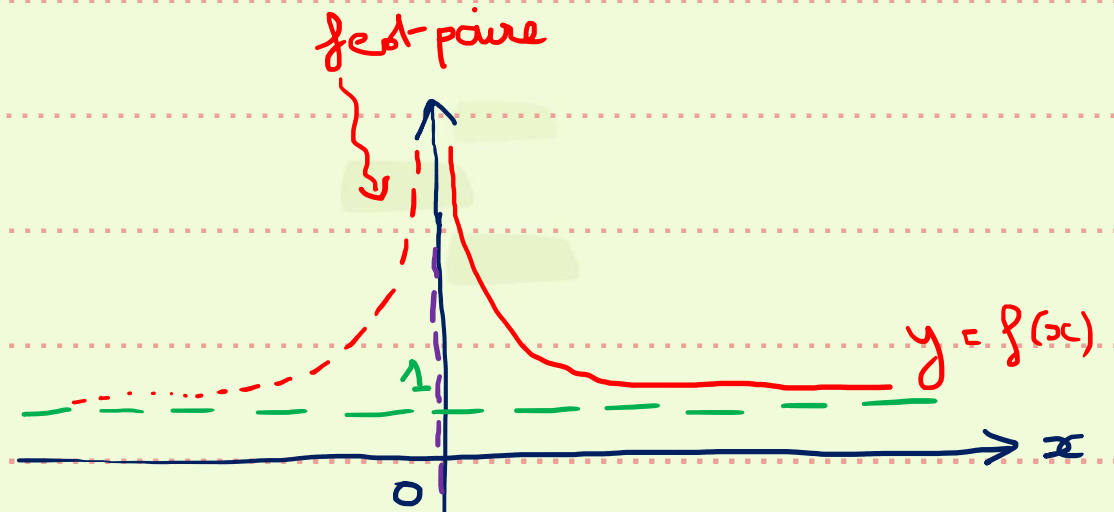
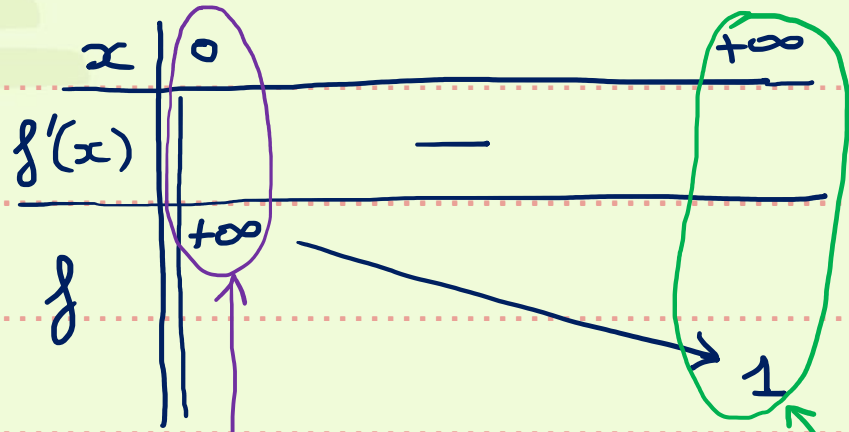
3

4



Notes

$$f(x) = \frac{e^{x^2}}{e^{x^2} - 1}$$



\* asymptote verticale  
d'équation  $x=0$

\* asymptote horizontale en  $+\infty$  et  $-\infty$   
d'équation  $y=1$

$$f'(x) = \frac{-2x e^{x^2}}{(e^{x^2} - 1)^2}$$

ne s'annule pas sur  $\mathbb{R}^*$ , il n'y a donc pas de tangente horizontale.



On étudie la bijectivité de la fonction  $f$ , définie par :  $f(x) = \frac{e^{x^2}}{e^{x^2} - 1}$ .

Quelle assertion ci-dessous est juste ?

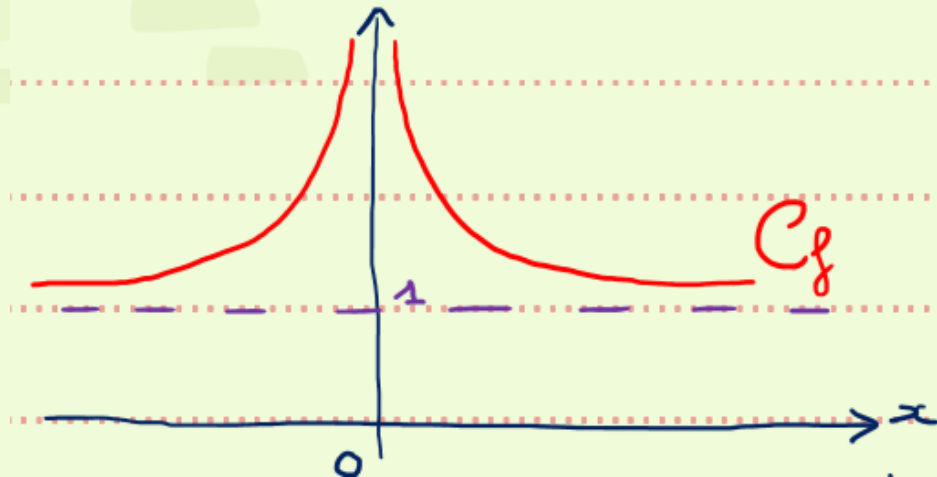
1.  $f: ]-\infty; 0[ \rightarrow [1; +\infty[$   $x \mapsto y = f(x)$  est bijective, car elle est strictement monotone et continue
2.  $f: ]0; +\infty[ \rightarrow [1; +\infty[$   $x \mapsto y = f(x)$  est bijective, car elle est strictement monotone
3.  $f: \mathbb{R}^* \rightarrow ]1; +\infty[$   $x \mapsto y = f(x)$  est bijective
- ✓4. Aucune des réponses précédentes n'est juste.

1

2

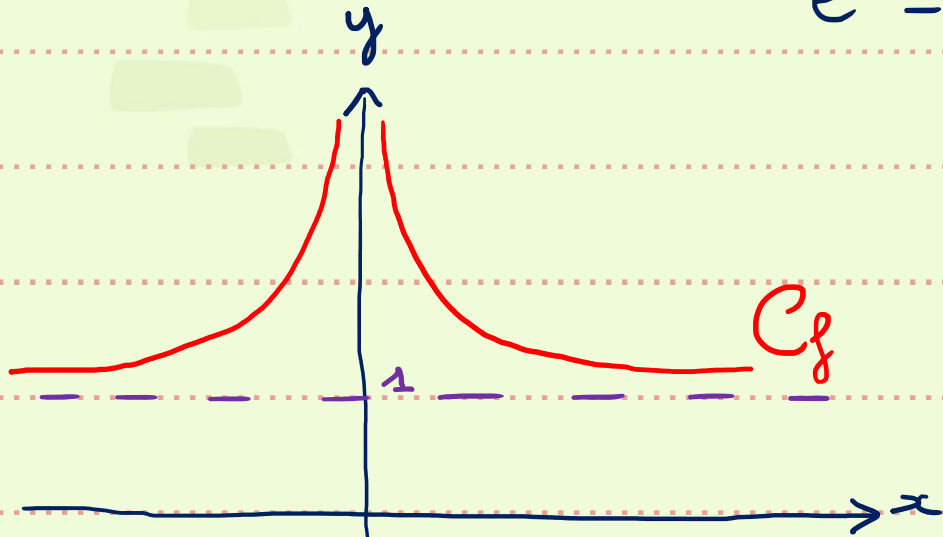
3

4



Notes

$$f(x) = \frac{e^{x^2}}{e^{x^2} - 1}$$



\*  $f: \mathbb{R}^* \longrightarrow ]1; +\infty[$  n'est pas bijective.  
 $x \longmapsto y = f(x)$  ③ est faux

\*  $f: ]0; +\infty[ \longrightarrow ]1; +\infty[$  ② est faux  
 $x \longmapsto y = f(x)$

D'après le th de bijection,  $f$  est bijective sur  $]0; +\infty[$  car  $f$  est continue  
et strictement décroissante sur  $]0; +\infty[$ .

\*  $f: ]-\infty; 0[ \longrightarrow ]1; +\infty[$  ① est faux  
 $x \longmapsto y = f(x)$

Idem :  $f$  est continue et str<sup>t</sup> croissante sur  $]-\infty; 0[$ ,  
donc bijective sur  $]-\infty; 0[$



La fonction  $f: ]-\infty; 0[ \rightarrow ]1; +\infty[ \quad x \mapsto y = f(x) = \frac{e^{x^2}}{e^{x^2}-1}$  étant bijective, elle admet une fonction réciproque  $f^{-1}$  telle que :

4'

1.  $f^{-1}: ]1; +\infty[ \rightarrow ]-\infty; 0[ \quad y \mapsto x = f^{-1}(y) = \sqrt{\ln\left(\frac{y}{y-1}\right)}$

1

2.  $f^{-1}: ]-\infty; 0[ \rightarrow ]1; +\infty[ \quad y \mapsto x = f^{-1}(y) = \sqrt{\ln\left(\frac{y}{y-1}\right)}$

2

3.  $f^{-1}: ]-\infty; 0[ \rightarrow ]1; +\infty[ \quad y \mapsto x = f^{-1}(y) = -\sqrt{\ln\left(\frac{y}{y-1}\right)}$

3

✓4.  $f^{-1}: ]1; +\infty[ \rightarrow ]-\infty; 0[ \quad y \mapsto x = f^{-1}(y) = -\sqrt{\ln\left(\frac{y}{y-1}\right)}$

4

5. Aucune des réponses précédentes n'est juste.

5



Notes

$$f(x) = \frac{e^{x^2}}{e^{x^2} - 1}$$

$f: ]-\infty; 0[ \longrightarrow ]1; +\infty[$  est bijective.  
 $x \longmapsto y = f(x)$

\*  $f$  admet donc une fonction réciproque  $\tilde{f}^{-1}: ]1; +\infty[ \longrightarrow ]-\infty; 0[$   
 $y \longmapsto x = \tilde{f}^{-1}(y)$

\* On résout  $y = \frac{e^{x^2}}{e^{x^2} - 1}$  avec  $x < 0$  et  $y > 1$ .

$$\Leftrightarrow y(e^{x^2} - 1) = e^{x^2} \Leftrightarrow ye^{x^2} - y = e^{x^2} \Leftrightarrow ye^{x^2} - e^{x^2} = y$$

$$\Leftrightarrow e^{x^2}(y - 1) = y \Leftrightarrow e^{x^2} = \frac{y}{y - 1} \Leftrightarrow x^2 = \ln\left(\frac{y}{y - 1}\right)$$

$$\Leftrightarrow x = \pm \sqrt{\ln\left(\frac{y}{y - 1}\right)}$$

Comme  $x < 0$  alors

$$x = \tilde{f}^{-1}(y) = -\sqrt{\ln\left(\frac{y}{y - 1}\right)}$$





# Calcul de limites



Soit  $f$ , la fonction définie par :  $f(x) = \frac{(-5x^2 - x + 2)^3}{(2x^3 + x + 1)^2}$  alors :

2'

1.  $\lim_{x \rightarrow +\infty} f(x) = \frac{-5}{2}$

1

2.  $\lim_{x \rightarrow +\infty} f(x) = \frac{5}{2}$

2

3.  $\lim_{x \rightarrow +\infty} f(x) = \frac{125}{4}$

3

✓4.  $\lim_{x \rightarrow +\infty} f(x) = \frac{-125}{4}$

4

5. Aucune des réponses précédentes n'est juste.


5



Notes  $L = \lim_{x \rightarrow +\infty} \frac{(-5x^2 - x + 2)^3}{(2x^3 + x + 1)^2} = \frac{\infty}{\infty}$

$$\frac{(-5x^2 - x + 2)^3}{(2x^3 + x + 1)^2} \underset{+\infty}{\sim} \frac{(-5x^2)^3}{(2x^3)^2} = \frac{-125x^6}{4x^6} = -\frac{125}{4}$$

done  $L = -\frac{125}{4}$



Soit  $f$ , une fonction dérivable en 0. On obtient un équivalent de  $f$  en 0 à l'aide de la formule suivante :

✓<sub>1</sub> 1.  $f(x) \sim_0 f(0) + x \cdot f'(0)$

2.  $f(x) \sim_0 f'(0) + x \cdot f(0)$

3. Aucun des résultats ci – dessus n'est juste

1

2

3



## Notes

Rappel:  $f(x) \underset{a}{\sim} f(a) + (x-a) f'(a)$

Si  $a=0$ , alors:

$$f(x) \underset{0}{\sim} f(0) + x f'(0).$$



Soit  $f$ , la fonction définie par :  $g(t) = \frac{e^{3t}-1}{4t\sqrt{t+5t}}$  alors :

3'

✓<sub>1</sub> 1.  $\lim_{t \rightarrow 0} g(t) = \frac{3}{5}$

2.  $\lim_{t \rightarrow 0} g(t) = \frac{3}{4}$

3.  $\lim_{t \rightarrow 0} g(t) = \frac{1}{5}$

4.  $\lim_{t \rightarrow 0} g(t) = \frac{1}{4}$

5. Aucune des réponses précédentes n'est juste.

1

2

3

4

5



Notes

$$g(t) = \frac{e^{3t} - 1}{4t\sqrt{t} + 5t}$$

$$L = \lim_{t \rightarrow 0} g(t) = \frac{0}{0} \text{ (FI)}$$

$$g(t) \underset{0}{\sim} \frac{?}{5t}$$

$$e^{3t} \underset{0}{\sim} 1 + 3t \quad \text{car } (3t) = x \xrightarrow{t \rightarrow 0} 0$$

car  $e^x \underset{0}{\sim} 1 + x$ , en effet  $f(x) = e^x \Rightarrow f(0) = e^0 = 1$

$$f'(x) = e^x \Rightarrow f'(0) = e^0 = 1$$

$$\text{et } f(x) \underset{0}{\sim} f(0) + x f'(0)$$

$$\text{Donc } g(t) \underset{0}{\sim} \frac{1+3t-1}{5t} = \frac{3t}{5t} = \frac{3}{5} \quad \text{et } L = \frac{3}{5}$$



Soit  $f$ , la fonction définie par :  $h(t) = \frac{\ln(1+\sqrt{t})}{4\sqrt{t}+5t}$  alors :

1.  $\lim_{t \rightarrow 0} h(t) = \frac{2}{5}$

2.  $\lim_{t \rightarrow 0} h(t) = 0$

3.  $\lim_{t \rightarrow 0} h(t) = \frac{1}{5}$

✓4.  $\lim_{t \rightarrow 0} h(t) = \frac{1}{4}$

5. Aucune des réponses précédentes n'est juste.

1

2

3

4

5





Notes

$$h(t) = \frac{\ln(1+\sqrt{t})}{4\sqrt{t} + 5t}$$

$$\lim_{t \rightarrow 0} h(t) = \frac{0}{0} \quad \text{FTI}$$

$$g(t) \underset{0}{\sim} \frac{?}{4\sqrt{t}}$$

Comme  $\ln(1+x) \underset{0}{\sim} x$

en posant  $x = \sqrt{t} \xrightarrow{t \rightarrow 0} 0$ , on obtient :

$$\ln(1+\sqrt{t}) \underset{0}{\sim} \sqrt{t}$$

$$\text{et } g(t) \underset{0}{\sim} \frac{\sqrt{t}}{4\sqrt{t}} = \frac{1}{4} \quad \text{donc}$$

(en effet :  $f(x) = \ln(1+x) \Rightarrow f(0) = \ln 1 = 0$   
 $f'(x) = \frac{1}{1+x} \Rightarrow f'(0) = \frac{1}{1+0} = 1$   
et  $f(x) \underset{0}{\sim} f(0) + x f'(0)$  )



Soit  $f$ , la fonction définie par :  $f(t) = \sqrt{2t + 1} - \sqrt{2t + 3}$  alors

3'

1.  $\lim_{t \rightarrow +\infty} f(t) = -\infty$

2.  $\lim_{t \rightarrow +\infty} f(t) = +\infty$

✓3 3.  $\lim_{t \rightarrow +\infty} f(t) = 0$

4. Aucune des réponses précédentes n'est juste.

1

2

3

4



Notes

$$f(t) = \sqrt{2t+1} - \sqrt{2t+3}$$

$$\lim_{t \rightarrow +\infty} f(t) = "+\infty - \infty" \text{ (FI)}$$



si

$$\begin{cases} h_1(t) \underset{t_0}{\sim} h_2(t) \\ k_1(t) \underset{t_0}{\sim} k_2(t) \end{cases}$$

alors on ne peut pas écrire:  $h_1(t) + k_1(t) \underset{t_0}{\sim} h_2(t) + k_2(t)$

exple:  $h_1(t) = 3t^2 - t + 1 \underset{+\infty}{\sim} 3t^2 = h_2(t)$

$$k_1(t) = -3t^2 + t + 3 \underset{+\infty}{\sim} -3t^2 = k_2(t)$$

$$h_1(t) + k_1(t) = 4 \underset{+\infty}{\sim} 0 \text{ c'est faux!}$$

Expression conjuguée:  $(A - B)$

$$f(t) = \left( \sqrt{2t+1} - \sqrt{2t+3} \right) \times \frac{(A + B)}{\sqrt{2t+1} + \sqrt{2t+3}}$$

$$f(t) = \frac{A^2 - B^2}{\sqrt{2t+1} + \sqrt{2t+3}} = \frac{-2}{\sqrt{2t+1} + \sqrt{2t+3}} \text{ donc } \boxed{\lim_{t \rightarrow +\infty} f(t) = 0}$$



# Calcul intégral



L'intégrale  $I = \int_{-2}^2 (3x^2 + 4)dx$  est égale à :

✓<sub>1</sub> 1.  $I = 2 \cdot \int_0^2 (3x^2 + 4)dx = 32$

2.  $I = 0$

3.  $I = 16$

4. *Aucun des résultats ci – dessus n'est juste*

1

2

3

4



Notes

$$I = \int_{-2}^2 (3x^2 + 4) dx$$

$[-2; 2]$  est centré en 0.

Méthode 1

Rappel: Si  $f$  est paire sur  $[-a; a]$ , alors  $\int_{-a}^a f(x) dx = 2 \times \int_0^a f(x) dx$

Si  $f$  est impaire sur  $[-a; a]$ , alors  $\int_{-a}^a f(x) dx = 0$

Ici  $f(x) = 3x^2 + 4$        $f(-x) = 3(-x)^2 + 4 = 3x^2 + 4 = f(x)$ , donc  $f$  est paire et

$$I = 2 \times \int_0^2 (3x^2 + 4) dx = 2 \times \left[ x^3 + 4x \right]_0^2 = 2(8 + 8 - 0) = 2 \times 16 = 32$$

Méthode 2

$$I = \int_{-2}^2 (3x^2 + 4) dx = \left[ x^3 + 4x \right]_{-2}^2 = \underbrace{8 + 8}_{16} - \underbrace{(-8 - 8)}_{-16} = 32.$$



Soit  $x \neq -\frac{1}{2}$ .

Les primitives de la fonction  $f(x) = 3e^{5x} - \frac{1}{2x+1} + x^3 \cdot \sin(x^4)$  sont :

3'

1.  $F(x) = 15e^{5x} + \frac{2}{(2x+1)^2} + 3x^2 \cdot \sin(x^4) + 4x^6 \cdot \cos(x^4) + cte$

1

2.  $F(x) = 3e^{5x} - \ln|2x + 1| - \frac{x^4}{4} \cdot \cos(x^4) + cte$

2

3.  $F(x) = 3e^{5x} - \ln|2x + 1| + \frac{x^4}{4} \cdot \cos(x^4) + cte$

3

✓4.  $F(x) = \frac{3}{5}e^{5x} - \frac{1}{2}\ln|2x + 1| - \frac{1}{4} \cdot \cos(x^4) + cte$

4

5.  $F(x) = \frac{3}{5}e^{5x} - \frac{1}{2}\ln|2x + 1| + \frac{1}{4} \cdot \cos(x^4) + cte$

5



Notes

$$x \neq -\frac{1}{2} \quad f(x) = 3e^{5x} - \frac{1}{2x+1} + x^3 \sin(x^4)$$

$$F(x) = \int f(x) dx = 3 \int e^{5x} dx - \int \frac{1}{2x+1} dx + \int x^3 \sin(x^4) dx$$

$$\left. \begin{array}{l} \int u'e^u dx = e^u + c \\ \int \frac{u'}{u} dx = \ln|u| + c \\ \int u' \sin u dx = -\cos u + c \end{array} \right\}$$

$$\left. \begin{array}{l} \text{ici } u=5x \Rightarrow u'=5 \\ \text{ici } u=2x+1 \Rightarrow u'=2 \\ \text{ici } u=x^4 \Rightarrow u'=4x^3 \end{array} \right\}$$

$$= \frac{3}{5} \int 5e^{5x} dx - \frac{1}{2} \int \frac{1 \times 2}{2x+1} dx + \frac{1}{4} \int 4x^3 \sin(x^4) dx$$

$$\forall x \neq -\frac{1}{2} \quad F(x) = \frac{3}{5} e^{5x} - \frac{1}{2} \ln|2x+1| - \frac{1}{4} \cos(x^4) + cte$$





L'intégrale  $I = \int_0^{\frac{2\pi}{3}} \sin(3t) dt$  est égale à :

1.  $I = 2/3$

✓ 2.  $I = 0$

3.  $I = -2/3$

4. *Aucun des résultats ci – dessus n'est juste*

1

2

3

4



Notes

$$I = \int_0^{2\pi/3} \sin(3t) dt$$

Méthode 1

Rappel 1: Si  $f$  est  $T$ -périodique, alors  $\int_0^T f(t) dt = \int_{-T/2}^{T/2} f(t) dt$

Rappel 2:  $A \cos(\omega t + \varphi)$  et  $A \sin(\omega t + \varphi)$

ont pour période:  $T = \frac{2\pi}{\omega}$

Ici  $f(t) = \sin(3t)$  alors  $\omega = 3$  et  $T = \frac{2\pi}{3}$ .

$$\text{et } I = \int_{-\pi/3}^{\pi/3} \underbrace{\sin(3t)}_{\text{impaire}} dt = 0$$

Méthode 2

$$I = \int_0^{2\pi/3} \sin(3t) dt = \left[ -\frac{\cos(3t)}{3} \right]_0^{2\pi/3} = -\frac{1}{3} \left( \frac{\cos 2\pi}{1} - \frac{\cos 0}{1} \right)$$

$I = 0$



Soit  $f(\omega) = \frac{\omega}{\sqrt{\omega^2+1}} + L \cdot \omega(\omega^2 + 1)^2 - \frac{C}{\omega^2+1}$  alors  $\int f(\omega) \cdot d\omega$  est égal à :

3'

1.  $2\sqrt{\omega^2 + 1} + \frac{L}{6} \cdot \omega^2(\omega^2 + 1)^3 + \frac{C}{(\omega^2+1)^2} + cte$

1

2.  $\sqrt{\omega^2 + 1} + \frac{L}{6} \cdot \omega^2(\omega^2 + 1)^3 + C \cdot \arctan(\omega) + cte$

2

3.  $\sqrt{\omega^2 + 1} + \frac{L}{3} \cdot (\omega^2 + 1)^3 + C \cdot \ln(\omega^2 + 1) + cte$

3

4.  $\sqrt{\omega^2 + 1} + \frac{L}{3} \cdot (\omega^2 + 1)^3 + \frac{C}{(\omega^2+1)^2} + cte$

4

✓5

5. Aucune des réponses ci-dessus n'est juste

5



Notes

$$f(w) = \frac{w}{\sqrt{w^2+1}} + Lw(w^2+1)^2 - \frac{c}{w^2+1}$$

$$\int f(w) dw = \int \frac{w}{\sqrt{w^2+1}} dw + L \cdot \int w(w^2+1)^2 dw - c \cdot \int \frac{1}{w^2+1} dw$$

$\int \frac{u'}{2\sqrt{u}} dw = \sqrt{u} + cte$ <p>ici <math>u = w^2+1 \Rightarrow u' = 2w</math></p>	$\int u' \cdot u^2 dw = \frac{u^3}{3} + cte$ <p>ici <math>u = w^2+1 \Rightarrow u' = 2w</math></p>	<del><math display="block">\int \frac{u'}{u} dw = \ln u  + cte</math></del> <p>ici <math>u = w^2+1 \Rightarrow u' = 2w</math></p> $\int \frac{u'}{u^2+1} dw = \arctan(w) + cte$ <p><math>u = w \Rightarrow u' = 1</math></p>
---	--	--

$$= \int \frac{2w}{2\sqrt{w^2+1}} dw + \frac{L}{2} \int 2w(w^2+1)^2 dw - c \cdot \int \frac{1}{w^2+1} dw$$

$$\int f(w) dw = \sqrt{w^2+1} + \frac{L}{2} \frac{(w^2+1)^3}{3} - c \cdot \arctan(w) + cte$$

